

**Задание 1.**

Перед Вами – портреты полководцев, командовавших русской армией во время войны 1812 г., стихотворения, им посвященные, а также схема театра военных действий 1812 г. (направленными вниз стрелками на ней обозначены места некоторых сражений первого периода войны (до отступления французской армии из Москвы), а направленными вверх – сражения второго периода). Ваша задача – определить, кто именно изображен на портретах, и соотнести портреты со стихотворениями и сражениями, в которых принимали участие эти военачальники. Ответ оформите в виде таблицы.

Фамилия	Буквенное обозначение портрета	Номер стихотворения	Номера сражений
<i>Сутуров</i>	А	III	34
<i>Пажитов - гр. Толми</i>	Б	V	12
<i>Пашковск</i>	В	IV	23
<i>Чичаев</i>	Г	II	5
<i>Шибаров</i>	Д	VI	134
<i>Толмаев</i>	Е	I	126



А.



Б.



В.



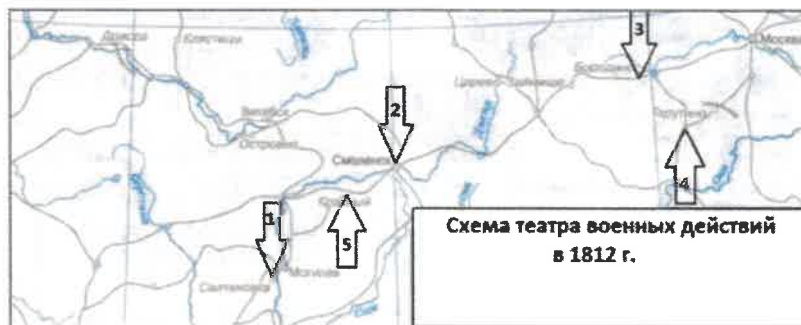
Г.



Д.



Е.



I) Хвала тебе, славян  
любовь,  
Наш ... (пропущено  
имя) смелый!..  
Ничто ему толпы врагов,  
Ничто мечи и стрелы;  
Пред ним, за ним Перун  
гремит,  
И пышет пламень боя...  
Он весел, он на гибель  
зрит  
С спокойствием героя...

II) Великодушный  
русский воин,  
Всеобщих ты похвал  
достоин:  
Себя и юных двух сынов  
—

Приносишь всё царю и  
богу;  
Дела твои сильнее всех  
слов,  
Ведя на бой российских  
львов,  
Вещал: «Сынов не  
пожалеем,  
Готов я с ними вместе  
лечь,  
Чтоб злобу лишь врагов  
пресечь!..  
Мы россы!.. умирать  
умеем»

III) Смоленский князь, *Жуков*  
вождь дальновидный,  
Не зря на толк обидный,  
Великий ум в себе являл,  
Без крови поражал

И в бранной хитрости  
противника, без лести,  
Превысил Фабия он в  
чести.

IV) Прошёл он много  
славных битв *Фабиан*  
И был везде  
неординарен,  
Но в Бородинском бое  
сбит

С коня ядром,  
смертельно ранен.  
Но не покинул поля он,  
Где в штыковую шли  
солдаты,  
И, закалённый духом  
войн,  
С носилок слал приказы  
свято.

Он ампутацию отверг,  
Отверг быть инвалидом  
тленным.  
Погиб великий человек  
От проникающей  
гангрены.

V) О вождь *Фабиан*  
несчастливый!  
Суров был жребий твой:  
Всё в жертву ты принес  
земле тебе чужой.  
Непроницаемый для  
взгляда черни дикой,  
В молчанье шел один ты  
с мыслию великой,  
И, в имени твоём звук  
чуждый невлюбя,  
Своими криками

преследуя тебя,  
Народ, таинственно  
спасаемый тобою,  
Ругался над твоей  
священной сединою.  
И тот, чей острый ум  
тебя и постигал,  
В угоду им тебя лукаво  
порицал..  
И долго, укреплен  
могущим убеждением,  
Ты был непоколебим пред  
общим заблуждением;  
И на полупути был  
должен наконец  
Безмолвно уступить и  
лавровый венец,  
И власть, и замысел,  
обдуманый глубоко, —  
И в полковых рядах  
сокрыться одиноко...

VI) Скоро зов пошлём  
к бою  
И пойдем опять вперед;  
... (пропущено имя) с  
собою  
Нас к победам поведет!  
Над дунайскими брегами  
Слава дел его гремит;  
Где ни встретится с  
врагами,  
Вступит в бой - врагов  
разит.

## Задание 2.

Перед Вами карта и отрывки из писем известного русского полководца. Укажите имя полководца, расставьте отрывки в хронологическом порядке и отметьте на карте, откуда было прислано каждое письмо.

А) «Еще новую победу Всевышний нам даровал. Новокомандующий генерал Жуберт, желая выиграть доверенность войск своих, выступил 4-го числа августа из гор с армиею свыше 30 000, оставя Гави в спине. Соединенная армия его атаковала и по кровопролитному бою одержала победу».

Б) «Превосходительному Господину Сераскиру Мегамету-паше Айдозле... Требую

отдачи города без сопротивления. Тут буду показаны всевозможные способы к выгодам вашим и всех жителей! О чем и ожидаю от сего чрез двадцать четыре часа решительного от вас уведомления к восприятию мне действий».

В) «Надобно ли мне до Москвы какой красноречивой для обнародования разбойника в жилье, состоит в высокой Вашей воле. Для того не хуже, буде изволите повелеть, и способно разставить сменные конвойные команды на некоторых частях тракта до Москвы. Г[раф] Меллин будет при нем».

Г) «Легкие наши войска салютированы были с Праги пушечною пальбою и зажжены кругом ... маяки. Сею победою Ваше Превосходительство поздравляя, пребываю с истинным почтением и преданностию».

Д) «Проходили мы неприступные места чрез горы, где всюду неприятеля поражали, и даже когда Массена атаковал задние войска наши, был от Розенберха разбит, потеряв разноместно в горных сражениях убитыми: генерала Легурье, разных чинов свыше 4000, да в плен нам доставшихся...»

Е) «Флот наш, Светлейший Князь, из Глубокой вдалеке уже здесь виден. О! коли б он, как баталия была, в ту же ночь показался, дешева б была разделка. Кроме малого числа, все их морские солдаты были на косе против нас, только и тут им мало выигрышу: ночью ближние казацьки к ним на косе пикеты не видали, чтоб кто ни есть из оставшихся перевозился».

Ж) «Помощию Бога войска Ея Императорского Величества команды моей разбили гетмана Огинского впятеро сильнее нас. Кратко донести Вашему Превосходительству имею: потерял он всю свою артиллерию и обозы, ста в три в полону, гораздо больше того убито».

З) «По жестоком сражении чрез целый день союзными войсками побит Визирь! 5000 на месте, несколько сот пленных, взят обоз, множество военной амуниции, шестных 78 пушек и мортир. Наш урон мал. Варвары были вчетверо сильнее».

ФИО полководца:

*Суворов Александр Андреевич*



Отрывки в хронологическом порядке:

№ п/п	1	2	3	4	5	6	7	8
Буквенное обозначение отрывка	В	С	Е	К	З	Н	А	Г

**Задание 3.**

Перед Вами фрагмент из «Дневника партизанских действий 1812 г.» Д. Давыдова: «Сколько раз я спрашивал жителей: «Отчего вы полагали нас французами?» Каждый раз отвечали они мне: «Да, вишь, родимый (показывая на гусарский мой ментик), это, бают, на их одежду схожо».

1. Какой выход нашел знаменитый «черный капитан» из этой сложной ситуации? Что конкретно придумал, чтобы простонародье не путало его отряды с французскими?

---



---



---

2. А теперь проверим, справились ли бы Вы с непростой задачей, оказавшейся не под силу русским крестьянам начала XIX в. Перед вами - несколько изображений наполеоновских и русских войск. Аргументировано определите, кто где. Ответ оформите в виде таблицы. Русские условно должны быть обозначены в таблице «Р», наполеоновские - «Н».



1.

Р. так на поле боя



2.

Н. так на поле боя наполеоновского солдата, так же и мушкетера, что было известно для русских войск

Р. С. К. луссаина оземедо



3.

Н. С. К. грама пономса на графундусер



4.



5.

Р. С. К. уодралеко оземедо ермоу  
у крародов Велен-свои шиндрин



6.

Р. С. К. в русево велакея оземедо



7.

Н. С. К. реф Французск



8.

Н. С. К. видно французской войс. створител дин  
русскою афини



*т.к. законодательный источник появился раньше актов*

**Задание 4.** Что отличает законодательный источник от актового материала?

- а. Актовый регулирует существующие нормы, а законодательный останавливает новые.
- б. Составителем законодательных источников является государство, а актового – частное лицо.
- в. Актовый материал обладает авторской субъективностью, законодательный источник таковой лишён.
- г. Отечественные законодательные источники появились раньше актовых.

**Задание 5.** Что из перечисленного может быть отнесено к публицистическим источникам?

- а. «Апология сумасшедшего» Чаадаева.
- б. Циркуляр о «кухаркиных детях» Делянова.
- в. «Письма русского путешественника» Карамзина.
- г. Высочайший рескрипт Александра II Назимову.

**Задание 6.** Одним из первых образцов публицистического источника считается...

- а. «Житие протопопа Аввакума, им самим написанное».
- б. «Послание Вассиана на Угру».
- в. «Слово о полку Игореве»
- г. «Духовная грамота» Ивана Калиты.

**Задание 7.** Как называется жанр (тип) древнерусского источника, повествующий о жизни и деяниях святых?

- а. Слово
- б. Моление

- в. Житие
- г. Былина

### Задание 8.

Перед Вами изображения советских наград, учреждённых в годы Великой Отечественной войны, и тексты с краткой информацией об этих наградах. Часть надписи на аверсе каждой из наград стерта. Определите, что это за награды, напишите их названия. Соотнесите изображение с соответствующим текстом.



1)



2)




3)



4)



5)



6)

А. Единственная советская медаль из наград за оборону, освобождение и взятие городов, учреждённая по прошествии многих лет после войны. Еще в годы войны Хрущев Н.С. выступил с предложением об учреждении этой медали, однако, его предложение было отклонено Сталиным. Медаль все же была учреждена при Хрущеве.





Б. Всего медалью награждено около одного миллиона четырехсот семидесяти тысяч человек, из них почти пятнадцать с половиной тысяч — дети.

В. Идея учреждения медали принадлежит работникам разведотдела штаба Карельского фронта. Памятный знак с изображением этой медали установлен на въезде в Мурманск.

Г. 22 декабря 1942 года, когда город еще находился во вражеских руках, Президиум Верховного Совета СССР учредил эту медаль. Все активные участники защиты города в 1941 - 1942 годах - и военные, и гражданские лица получили право на эту награду. В настоящее время выдано около 50 000 медалей.

Д. Медаль напоминает об одном из наиболее напряженных сражений, развернувшихся в сложнейших географических условиях на огромном пространстве. На сегодняшний день медалью награждено приблизительно 870 000 человек, часть из которых составляют моряки черноморского флота, а так же мирные граждане.

Е. Данная награда стала одной из самых массовых в советской истории, всего по состоянию на 1 января 1995 года ею были награждены примерно 1 028 600 человек. При этом медалью могли быть награждены все участники обороны города – военнослужащие, сотрудники войск НКВД, гражданские лица и партизаны. Также данная награда вручалась героическим защитникам города-героя Тулы.

Обозначение иллюстрации	Текстовый фрагмент (буква)	Название награды
1		За оборону...
2		За оборону... <i>Васюков</i>
3		За оборону... <i>Валкинский</i>
4		За оборону... <i>Москвы</i>
5		За оборону... <i>Тулы</i>
6		За оборону.

## Задание 9.

**Внимательно изучите текст. В нем есть пропуски, отмеченные цифрами в скобках. Напротив цифр, приведенных после текста, запишите пропущенные даты, имена собственные и имена нарицательные.**

Первый документально подтвержденный сухопутный артиллерийский салют был произведен в Москве 21 октября **(1)** года при вступлении в город русских войск во главе с Петром I после победы под Полтавой. Салюты гремели по случаю всех крупных побед петровской армии и флота. В дальнейшем, в связи с переносом столицы из Москвы в Петербург, они производились из нового города. В **(2)** году впервые прогремели пушечные выстрелы из **(3)** крепости, прославлявшие победу русского флота над шведским в **(4)** сражении.

Петром были заложены еще две салютные традиции. Во-первых, это **(5)** выстрел пушки Петропавловской крепости в Санкт-Петербурге, который мы можем слышать по сей день.

Вторая традиция, заложенная Петром и возобновленная Николаем I, — отмечать артиллерийским салютом рождение и **(6)** членов императорской фамилии.

После смерти Петра Великого традиция была возобновлена его дочерью, императрицей **(7)** - и салютом было отмечено взятие русскими войсками **(8)** в 1760 году. Какого-либо регламента, связанного с салютами в честь военных побед, принято не было, и решения об их произведении принимались лично главой государства.

Желание упорядочить праздничную палубу было связано также с появлением в **(9)** году по итогам международного конгресса в Аахене строгого дипломатического протокола. Наиболее известен установленный тогда **(10)** из 21 выстрела, который применяется сейчас при встречах глав государств.

В марте **(11)** года Москва снова стала столицей государства, уже советского. С возвращением ей первоначального статуса салюты вновь стали греметь из Москвы. Во время Великой Отечественной войны руководство СССР решило обратиться к исторической традиции и было принято решение возродить проведение праздничных салютов и заодно их регламентировать.

Генерал армии Сергей Штеменко так описал историю принятия этого поистине исторического решения: «5 августа **(12)** года Сталин вернулся с фронта. Антонова и меня вызвали в Ставку, где уже собрались все ее члены.

- Читаете ли вы военную историю? - обратился Верховный к Антонову и ко мне.

Мы смешались, не зная, что ответить. Вопрос показался странным: до истории ли было нам тогда! А Сталин между тем продолжал: - Если бы вы ее читали, то знали бы, что еще в древние времена, когда войска одерживали победы, в честь полководцев и их войск гудели все **(13)**. И нам неплохо бы отмечать победы более ощутимо, а не только поздравительными приказами. Мы думаем, - кивнул он головой на сидевших за столом членов Ставки, - давать в честь отличившихся войск и командиров, их возглавляющих, артиллерийские салюты. И учинять какую-то иллюминацию...

**(14)** 1943 года, впервые за время Великой Отечественной войны, Москва салютовала доблестным войскам Западного, Центрального, Воронежского, Брянского и Степного фронтов, освободившим **(15)** и Белгород.

Согласно приказу И.В. Сталина, в ночь с 5 на 6 августа в столице было произведено 12

артиллерийских залпов из 124 орудий с интервалом 30 секунд. Стрельбу холостыми зарядами вели 100 зенитных орудий и 24 горные пушки Кремлевского дивизиона.

В том же году Ставка утвердила три категории салютов. Первая степень (24 залпа из 324 орудий) - в ознаменование особо выдающихся событий. Первый такой салют состоялся 6 ноября 1943 года в день освобождения (16), последний - 3 сентября (17) года в честь победы над Японией. Всего в годы войны было произведено 26 салютов 1-й степени.

Вторая степень (20 залпов из 224 орудий) - в честь крупных событий: освобождения крупных городов, завершения крупных операций. Первый из них был дан 23 августа 1943 года в честь освобождения (18), последний - 8 мая 1945 года в честь взятия городов Яромержице и Зноймо в Чехословакии и Голлабрунн и Штоккерау в Австрии.

Третья степень (12 залпов из 124 орудий) - по поводу важных военно-оперативных достижений. Было произведено 122 салюта 3-й степени: первый был дан 30 августа 1943 года в честь освобождения Таганрога, последний - 8 мая 1945 года в честь взятия советскими войсками города Оломоуц в Чехословакии. Все салюты проходили в Москве, за единственным исключением: салют 1-й степени 27 января 1944 года в честь снятия блокады был произведен в (19).

Победа над Германией 9 мая 1945 года была отмечена 30 залпами из 1000 орудий.

После войны о салютах опять на некоторое время забыли и лишь с появлением в календаре Дня Победы 9 мая (20) года как официального праздника, они вернулись опять.

#### Ответ:

- |                           |                  |                      |
|---------------------------|------------------|----------------------|
| 1. <u>1909</u>            | 9. <u>1815</u>   | 17. <u>1945</u>      |
| 2. <u>1914</u>            | 10. <u>Яки</u>   | 18. <u>Благоден</u>  |
| 3. <u>Петроависовский</u> | 11. <u>1918</u>  | 19. <u>Меминград</u> |
| 4. <u>Панчухово</u>       | 12. <u>1941</u>  | 20. <u>1954</u>      |
| 5. <u>Жаботин</u>         | 13. <u>руши</u>  |                      |
| 6. <u>Самое село</u>      | 14. <u>В шок</u> |                      |
| 7. <u>Буденный Сталин</u> | 15. <u>Дей</u>   |                      |
| 8. <u>Винниград</u>       | 16. <u>Киев</u>  |                      |

#### Задание 10.

Многие из характеристик родов деятельности наших предков теперь забыты, а сами их названия вызывают лишь недоумение. Разделите приведенные суждения на верные и неверные. Ответ оформите в виде таблицы. Работы, в которых все суждения отнесены либо к верным, либо к неверным, оцениваться не будут!

1. Бондарь – специалист по изготовлению бочек или деревянной посуды.
2. Бортник – специалист по судостроению.
3. Затинщик – боец передового отряда войска, начинавшего сражение.
4. Коробейник – изготовитель и продавец коробов из бересты.
5. Кравчий – помощник портного, отвечавший за раскрой ткани.

6. Офеня – представитель преступного мира, мелкий вор.
7. Рудомет – специалист по кровопусканию.
8. Стряпчий – придворный повар в Московском государстве.
9. Толмач – переводчик.
10. Ясельничий – воспитатель малолетних детей царя.

Верно	Неверно
<u>7</u> <u>9</u> <u>15</u> <u>6</u>	<u>2</u> <u>8</u> <u>34</u> <u>10</u>

### Задание 11.

Перед Вами таблица, в которой даны показатели социально-экономического развития России в первой половине XIX в. и их значения. Установите верное соответствие между ними. Ответ оформите в виде таблицы, переписав в неё верные значения показателей.

Показатель	Значение
1 Военные расходы Российской империи в 1853 г. (тыс. руб.)	3,3
2 Доля крепостных ко всему населению к концу 1850-х гг. (%)	11
3 Население Санкт-Петербурга в 1811 г. (тыс. чел.)	37
4 Протяженность железных дорог к 1860 г. (верст)	69
5 Средняя урожайность в Тульской губернии в 1802-1811 гг. (в "самах")	336
6 Численность дворян к 1858 г. (тыс. чел.)	887
7 Численность населения России к середине XIX в. (млн. чел.)	1 490
8 Число пароходов на внутренних торговых путях в 1825 г.	5 261
9 Число промышленных предприятий в 1825 г.	98 540

1. 98540
2. 87
3. 1490
4. 5261
5. 3,3
6. 336
7. 69
8. 11
9. 887

### Задание 12.

Перед вами – таблица с пропущенными названиями городов. Определите названия, отгадываясь от того, что годы, расположенные в правом столбце, – это годы, когда город подвергался осаде, был взят либо находился в оккупации \_\_\_\_\_ Название города \_\_\_\_\_

Годы, когда он подвергался осаде, был взят либо находился в оккупации

1. 1395, 1919, 1941 \_\_\_\_\_ *Вез* \_\_\_\_\_ *2*
2. 1238, 1327/28, 1485, 1941 \_\_\_\_\_ *Мелитополь* \_\_\_\_\_ *2*
3. 1238, 1293, 1368, 1370, 1382, 1408, 1571, 1610-1612, 1812, 1941 \_\_\_\_\_ *Москва* \_\_\_\_\_ *2*
4. 1395, 1404, 1609-1611, 1632-1633, 1812, 1941-1943 \_\_\_\_\_ *Вильна* \_\_\_\_\_ *2*
5. 1569-1570, 1611-1617, 1941-1944 \_\_\_\_\_ *Новгород* \_\_\_\_\_ *2*
6. 1240-1242, 1581-1582, 1615, 1941-1944 \_\_\_\_\_ *Нов* \_\_\_\_\_ *2*
7. 1552, 1605, 1607, 1941 \_\_\_\_\_ *Минск* \_\_\_\_\_ *2*
8. 1637-1642, 1695-1696, 1736, 1942-1943 \_\_\_\_\_ *Цхов* \_\_\_\_\_ *2*
9. 1854-1855, 1941-1944 \_\_\_\_\_ *Севастополь* \_\_\_\_\_ *2*